

ESTIMULACIÓN COGNITIVA

Cerebro Activo

Subcategoría

Titular



ASOCIACIÓN FAMILIARES
ALZHEIMER VALENCIA



Cálculo

Mediante esta actividad se pretende estimular la rapidez en el cálculo mental.



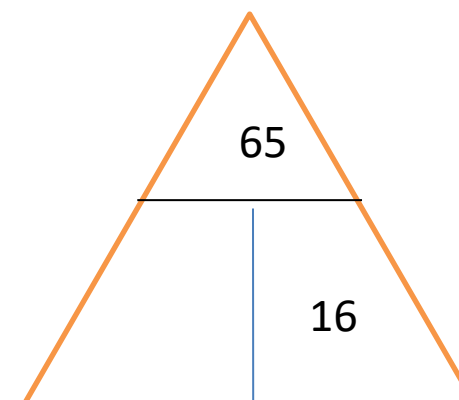
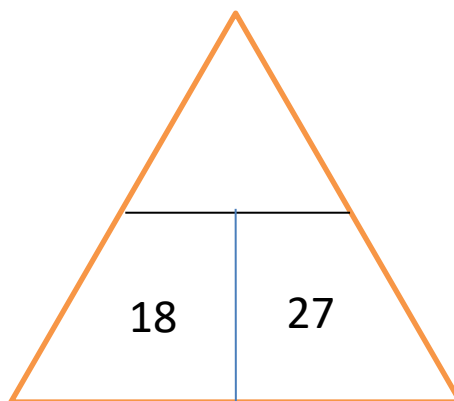
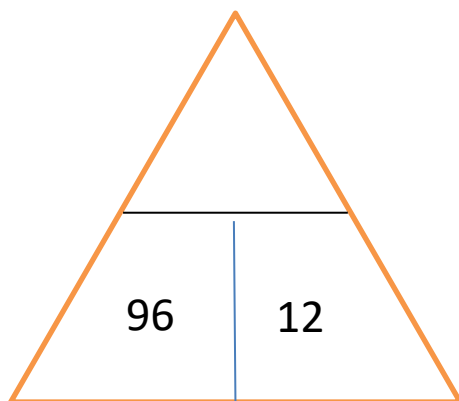
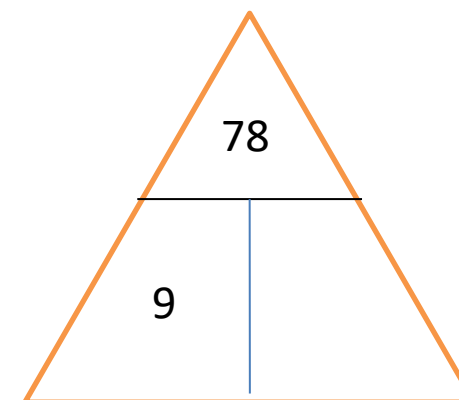
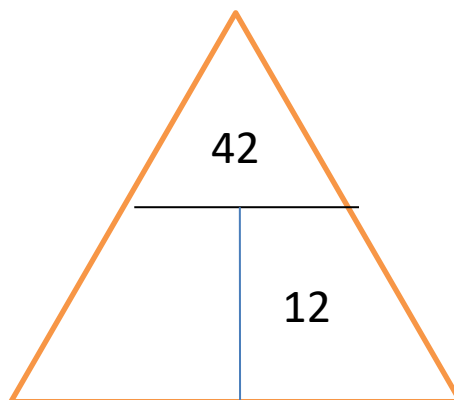
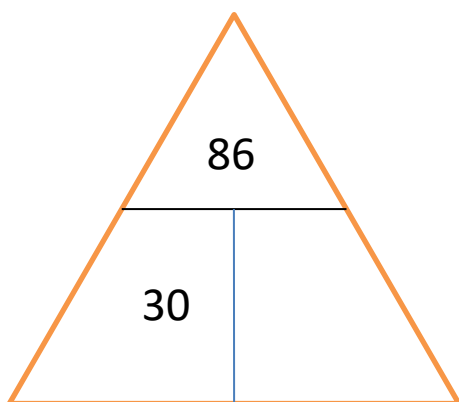
EJERCICIO

Coloree aquellas operaciones cuyo resultado sea 20

| | | | | |
|----------|---------|---------|----------|---------|
| 18 2 | 3 11 | 20 7 | 15 5 | 9 11 |
| 12 11 | 3 17 | 4 15 | 10 12 | 8 17 |

EJERCICIO

Completa la siguiente pirámide





EJERCICIO

Clasifique los siguientes números en impares y pares

23, 12, 45, 67, 2, 34, 9, 11, 10, 87, 80, 22, 54, 43, 7, 77, 19, 20, 33, 31, 28, 6, 70, 13, 40

Impares

| | | | |
|--|--|--|--|
| | | | |
| | | | |

Pares

| | | | |
|--|--|--|--|
| | | | |
| | | | |



EJERCICIO

Colorea las multiplicaciones correctas

| | | | |
|-------------------|---------------------|-------------------|-------------------|
| $7 \times 8 = 56$ | $6 \times 7 = 42$ | $5 \times 5 = 40$ | $6 \times 2 = 12$ |
| $9 \times 8 = 78$ | $5 \times 7 = 45$ | $5 \times 9 = 80$ | $6 \times 8 = 56$ |
| $6 \times 8 = 46$ | $4 \times 7 = 27$ | $5 \times 4 = 20$ | $6 \times 7 = 42$ |
| $5 \times 8 = 40$ | $3 \times 7 = 21$ | $5 \times 3 = 12$ | $6 \times 6 = 26$ |
| $4 \times 8 = 31$ | $2 \times 7 = 14$ | $5 \times 8 = 60$ | $6 \times 3 = 12$ |
| $3 \times 8 = 22$ | $1 \times 7 = 7$ | $5 \times 7 = 75$ | $6 \times 4 = 24$ |
| $2 \times 8 = 16$ | $12 \times 7 = 124$ | $5 \times 2 = 10$ | $6 \times 9 = 80$ |
| $1 \times 8 = 0$ | $7 \times 7 = 49$ | $5 \times 0 = 5$ | $6 \times 1 = 5$ |



EJERCICIO

Añade el signo correcto

$45 \quad 9 = 36$

$120 \quad 70 = 190$

$11 \quad 4 = 7$

$81 \quad 8 = 89$

$12 \quad 36 = 48$

$62 \quad 43 = 19$

$12 \quad 7 = 19$

$96 \quad 13 = 83$

$52 \quad 8 = 44$

$53 \quad 11 = 42$

$123 \quad 122 = 1$

$23 \quad 9 = 32$

$76 \quad 9 = 85$

$31 \quad 16 = 25$

$28 \quad 9 = 37$



EJERCICIO

Resuelva los siguientes ejercicios

En una granja hay 12 gallinas, 8 patos y 5 gansos.
¿Cuántas aves hay en total?

Luis tiene 3 cajas. En cada caja hay 9 libros.
¿Cuántos libros tiene en total?

Una biblioteca tiene 5 estantes. Cada estante contiene 120 libros. **¿Cuántos libros hay en total en la biblioteca?**

Hay 4 macetas. Cada maceta tiene 6 flores.
¿Cuántas flores hay en total?

Una fábrica produce 250 botellas al día. ¿Cuántas botellas producirá en 6 días?
¿Y cuántas produciría en una semana completa (7 días)?

EJERCICIO

¿Qué hora es? Responda verdadero o falso



Las seis en punto



Las dos menos
cuarto



Las seis menos
diez



Las cinco menos
veinte

ESTIMULACIÓN COGNITIVA

CEREBRO ACTIVO

SUBCATEGORIA. Titular



ASOCIACIÓN FAMILIARES
ALZHEIMER VALENCIA