



**ASOCIACIÓN FAMILIARES
ALZHEIMER VALENCIA**

EJERCICIOS DE ESTIMULACIÓN

COGNITIVA

NIVEL MEDIO 6



ASOCIACIÓN FAMILIARES ALZHEIMER VALENCIA

En este grupo de fichas se trabaja:

- Lenguaje
- Fluidez verbal
- Razonamiento
- Cálculo
- Praxias.
- Gnosias.

DE QUE HABLAMOS

*Pequeño recipiente para guardar los ahorros

*Órgano sensorial para ver _____

*Vasija pequeña, con asa, para tomar café _____

*Último piso de un edificio _____

*Pelo que crece en la parte baja de la cara _____

*Pasta que utilizamos para dar brillo a los zapatos

*Parte superior del cuerpo, por encima de los hombros _____

*Conjunto de doce cosas _____

*Conjunto de parientes (padres, hijos) _____

ESCRIBE 5 NOMBRES DE :

ANIMALES (BURRO)

PROV.DE ESPAÑA(JAÉN)

PAISES EUROPEOS(SUIZA)RIOS DE ESPAÑA(MIÑO)

PUEBLOS VALENCIA(SEDAVI) PRENDAS (ABRIGO)

LEE ATENTAMENTE LAS SIGUIENTES FRASES Y DIGA SI ES VERDADERO O FALSO LO QUE DICEN

- Un círculo tiene forma redonda
- Un cuadrado tiene 6 lados
- Una de las playas de Valencia es la Malvarrosa
- Yo vivo en la calle de la paz
- El baloncesto se juega con raquetas
- La Navidad se celebra en agosto
- Cervantes fue un pintor argentino
- Una nuez es más dura que un huevo
- Hay que regar las plantas para que crezcan
- La policía se encarga de la seguridad de los ciudadanos
- La tortilla de patata NO lleva patata
- En el mar hay cocodrilos
- La manzana es una fruta
- Málaga está en Italia
- El vodka es una bebida típica de Rusia
- Valencia no tiene mar
- En invierno vamos con pantalones cortos
- Todos los rubios tienen los ojos verdes
- En España se sufre de sequía
- En Barcelona se celebraron los juegos olímpicos

ORDENA LOS SIGUIENTES NÚMEROS DE MAYOR A MENOR:

37	59	63	85	74	98	56
42	91	33	50	21	15	100

.....

.....

.....

PON EL NÚMERO ANTERIOR Y POSTERIOR:

__ 40 __	__ 29 __	__ 10 __	__ 60 __	__ 39 __
__ 50 __	__ 90 __	__ 69 __	__ 80 __	__ 45 __
__ 20 __	__ 71 __	__ 79 __	__ 1 __	__ 89 __

COMPLETA LA SIGUIENTE SERIE:

20 + 4 ____ + 5 ____ - 3 ____ - 2 ____ + 3 ____ + 2 ____ - 4 ____

- 2 ____ + 7 ____ + 6 ____ - 1 ____ - 5 =

25 + 4 ____ - 3 ____ + 5 ____ + 6 ____ - 4 ____ + 2 ____ + 8 ____

- 3 ____ + 7 ____ - 5 ____ - 2 =

EL TEATRO ROMANO DE MÉRIDA

El teatro romano de Mérida fue un regalo del emperador Agripa a esta ciudad. Está situada en la parte oriental de la misma, aprovechando una ladera. Su belleza y riqueza dan idea de la importancia que tuvo Mérida cuando era capital de la provincia de Lusitania. Su graderío, semicircular, tiene capacidad para 6.000 espectadores. La orquesta está revestida de mármoles y en la escena hay columnas corintias y hermosas estatuas. Actualmente se celebran en él conciertos y representaciones teatrales.

CONTESTA

- ¿Quién hizo el teatro romano de Mérida?

- ¿De qué provincia fue capital Mérida en la época romana?


- ¿Qué tipo de columnas nos encontramos en este teatro?

Busca en esta sopa de letras y encierra el nombre de 10 árboles.




C	A	S	T	A	Ñ	O	P	T	A
R	Q	Z	S	A	U	C	E	Y	B
W	A	B	E	T	O	S	I	O	E
Q	E	T	V	O	X	Z	Q	W	D
C	I	P	R	E	S	N	Ñ	L	U
D	M	P	E	D	G	H	J	K	L
O	X	E	N	E	B	R	O	B	I
N	N	K	P	A	N	I	C	N	E
I	Q	V	L	O	L	I	V	O	Q
P	M	S	X	Q	E	L	B	O	R

SIGUE LAS INSTRUCCIONES

- En el lado derecho del techo, dibuja una chimenea.
- En el centro de la casa, dibuja una puerta.
- EN el lado izquierdo de la casa, dibuja un árbol.
- Encima del árbol, dibuja una nube.
- En el lado derecho, en la parte de arriba, dibuja el sol.
- Dibuja las cortinas de las ventanas.

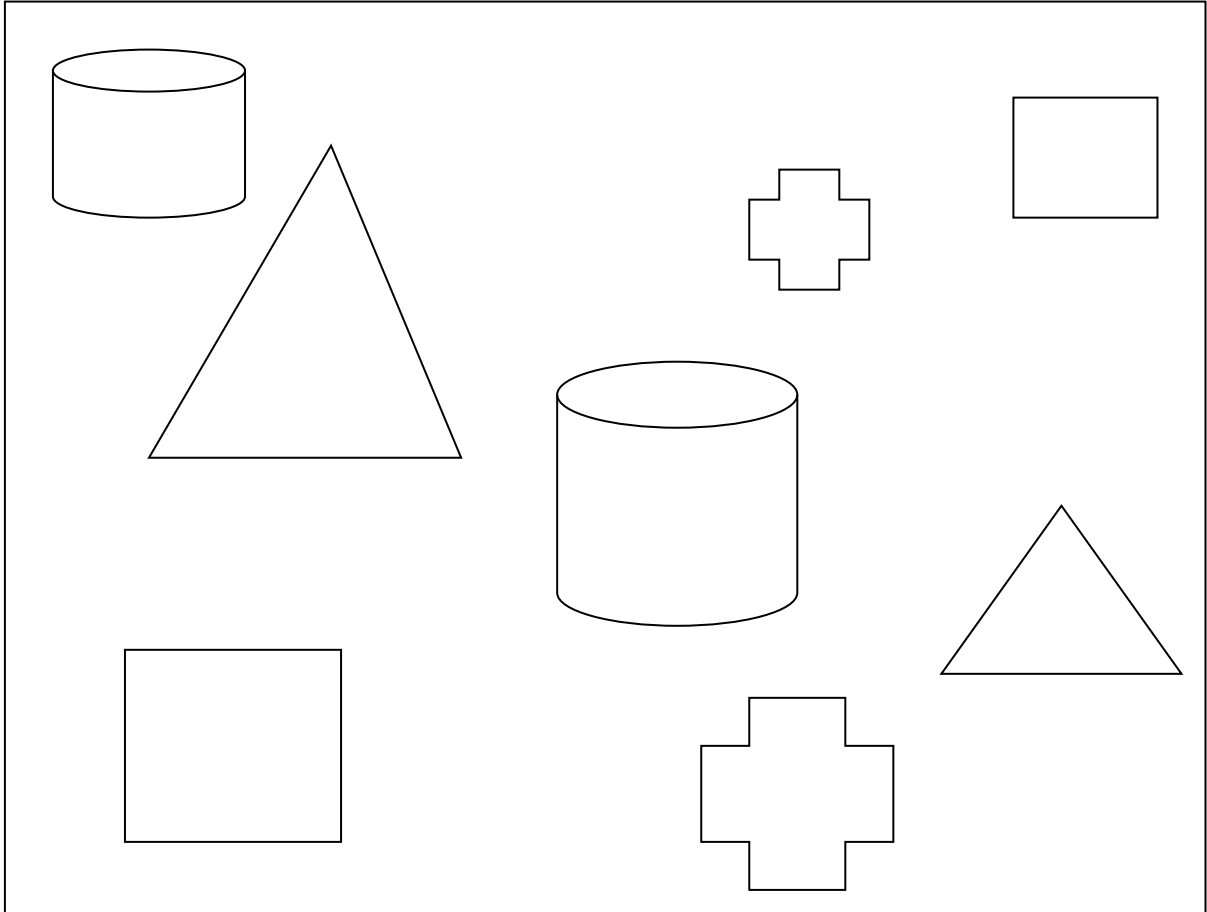


COPIA LA IMÁGEN EN LAS CUADRÍCULAS



WWW.IVANIK.COM.AR

Observe las figuras y colorea según las indicaciones:



- Pinte de color azul la cruz más pequeña.
- Pinte de color rojo el cuadrado más grande.
- Pinte de color amarillo el triángulo más pequeño.
- Pinte de color verde el cilindro más grande.

FUNCIÓN EJECUTIVA

1_ DESCRIBA LOS PASOS QUE HAY QUE HACER PARA PINTAR
UN CUADRO:

2_ DESCRIBA LOS PASOS QUE HAY QUE HACER PARA PONER
UNA MESA A LA HORA DE COMER